
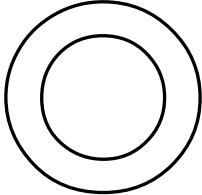


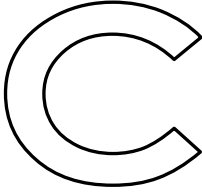




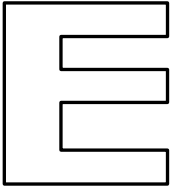

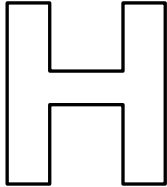

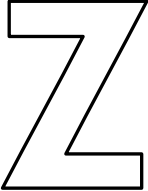



Nombre _____

Dibuja los ejes de simetría de cada letra y el número de ejes que tiene.

1.  Número de ejes _____	2.  Número de ejes _____	3.  Número de ejes _____
4.  Número de ejes _____	5.  Número de ejes _____	6.  Número de ejes _____
7.  Número de ejes _____	8.  Número de ejes _____	9.  Número de ejes _____
10.  Número de ejes _____	11.  Número de ejes _____	12.  Número de ejes _____
13.  Número de ejes _____	14.  Número de ejes _____	15.  Número de ejes _____