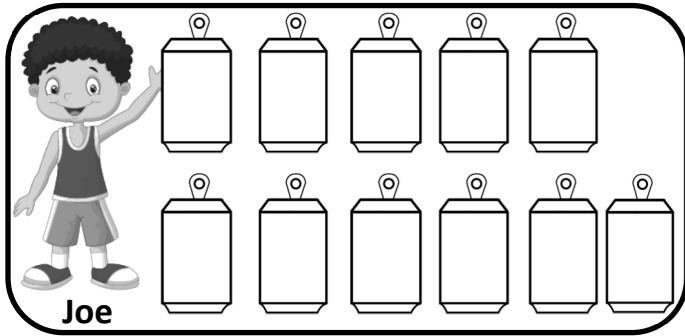


Nombre _____

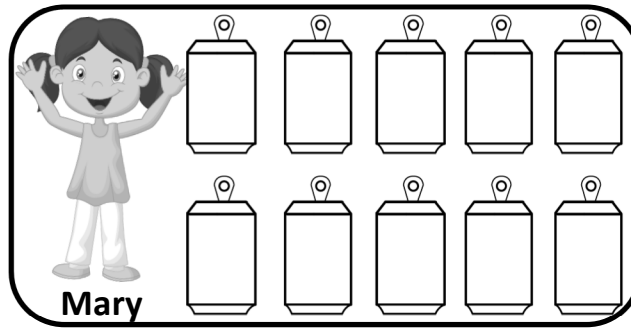
Fecha _____

Joe, Mary and Susy recogieron latas de soda. Observa el pictograma y completala información.




Joe

Total de latas _____



Mary

Total de latas _____



Susy

Total de latas _____

Utiliza barras de conteo para mostrar el total.



Representa los datos en el gráfico

