



















Nombre _____



¿Cuántos estudiantes saben nombrar los presidentes que están en las monedas?



Thomas Jefferson								
Jonh F. Kennedy								
Lincoln								
George Washington								
Franklin D. Roosevelt								
		1	2	3	4	5	6	7

1. Escribe el número de estudiantes que reconoce el presidente de cada moneda.

Thomas Jefferson _____ John F. Kennedy _____ Lincoln _____

George Washington _____ Franklin D. Roosevelt _____

2. ¿Quién es el más reconocido? _____

3. ¿Quién es el menos reconocido? _____

4. ¿Cuántos presidentes diferentes hay en las monedas? _____

5. ¿ A cuántos estudiantes en total se les hizo estas preguntas? _____