


# Fracciones de la vida diaria

Escribe la fracción para cada figura.

$\frac{3}{2}$   
 $\frac{3}{5}$




Fracción:  
Pedazos con  
semillas.


$$\frac{3}{8}$$

$\frac{1}{3}$

$\frac{5}{4}$



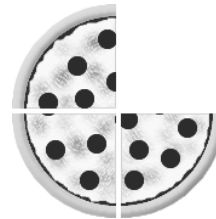
Fracción:  
Pedazo que falta

$$\frac{\quad}{\quad}$$



Fracción:  
Vidrio con líneas

$$\frac{\quad}{\quad}$$


Fracción:  
Cara de la luna  
con luz

$$\frac{\quad}{\quad}$$


Fracción:  
Pedazo que falta

$$\frac{\quad}{\quad}$$


Fracción:  
Pedazo que falta

$$\frac{\quad}{\quad}$$


Fracción:  
Pedazo que falta

$$\frac{\quad}{\quad}$$