






# ¿Puedes analizar la gráfica?

<b>floreros</b>	
<b>canastas</b>	
<b>girasoles</b>	
<b>margaritas</b>	
<b>rosas</b>	

1. ¿Cuántos floreros hay en total?

- 10  
 3  
 5

2. ¿Cuántos floreros más que canastas hay?

- 2  
 3  
 5

3. ¿Cuántas rosas menos que margaritas hay?

- 5  
 9  
 4

4. ¿Cuál tiene la menor cantidad?

- floreros  
 canastas  
 rosas

5. ¿Cuál tiene una cantidad igual?

- girasoles y margaritas  
 rosas y floreros  
 floreros y canastas

6. ¿Cuál tiene la mayor cantidad?

- rosas  
 canastas  
 girasoles