


Nombre _____

El tiempo atmosférico


El tiempo atmosférico depende de la temperatura, las precipitaciones y el viento.



Cuando la temperatura es alta, hace calor. Cuando la temperatura es baja, hace frío. La temperatura se mide con un termómetro. Las precipitaciones ocurren cuando el agua de las nubes cae sobre la Tierra. Pueden ser en forma de lluvia, nieve o granizo. La precipitación se mide con un pluviómetro. El viento es aire en movimiento.



Puede ser suave como una brisa o fuerte como un huracán. La veleta indica la dirección del viento.



1. Escoge y escribe las palabras que describen el tiempo atmosférico del dibujo.

nieve	lluvia
calor	frío
granizo	viento
brisa	sol

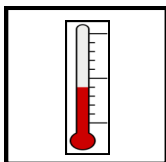


_____ 

_____ 

_____ 

2. Relaciona las columnas.



•



•



•

- indica la dirección del viento
- mide la temperatura
- mide la precipitación