


Soy dos palitos de madera,  
si sumo uno y uno.  
¿Qué número queda?




13



Se tiene 1 caja grande,  
con cuatro cajas medianas dentro,  
tres cajas chicas dentro de cada  
mediana y 2 cajas pequeñas dentro de  
cada chica. ¿Puedes decir cuál es el  
número completo de cajas de regalo  
que se tienen?



14



¿Cuáles son los números  
más pesimistas?



15



Soy más de uno  
sin llegar al tres,  
y llego a cuatro  
cuando dos me des.



16

