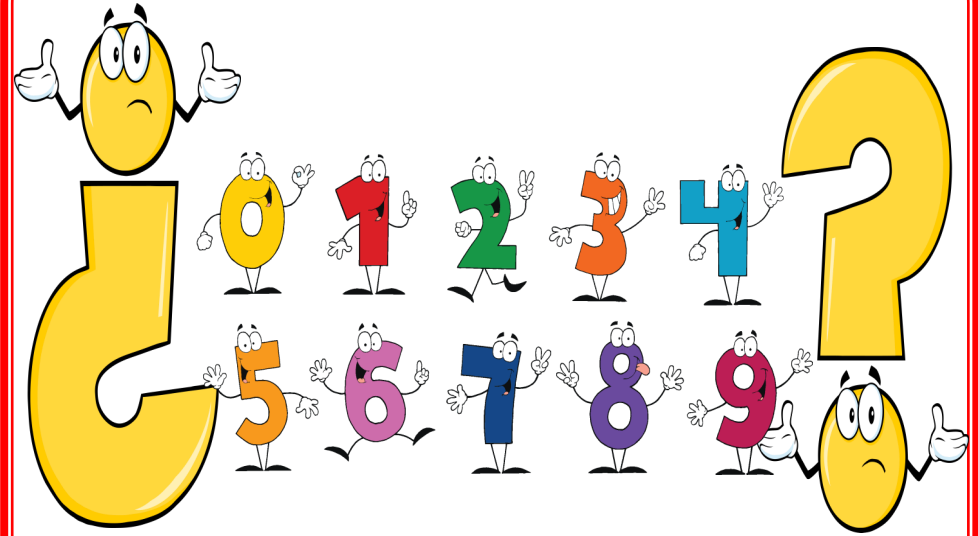


Adivina adivinator




©The Learning Patio-Dos Idiomas



1. Los números
2. El nueve
3. El dos
4. El cero
5. El uno
6. 222
7. El seis
8. El ocho
9. El ocho
10. Dos panes y medio
11. Porque tendrian problemas
12. $11+1=12$




13. El once
14. 29
15. Los negativos
16. El dos
17. 26 y 28
18. mil
19. El cuatro
20. El once
21. El cuatro
22. El cinco
23. Porque tenía muchos problemas
24. 3 (la mitad de 2 es 1; $1 + 2 = 3$)



Conteste, don Serafín,
 en prosa, en verso,
 o en ripio,
 ¿qué cosa tiene principio,
 pero no tiene fin?




1



¿Qué cosa será aquella
 que mirada del derecho
 y mirada del revés,
 siempre un número es?




2



Tengo forma de patito,
 soy arqueado y redondito.




3




Se trata de un
 caso extraño,
 pues siendo siempre
 el mismo
 vale mucho o vale nada,
 según el sitio en que va.



4







De miles hijos que somos
el primero nació
y soy el menor de todos
¿cómo puede ser así?





5



Somos tres patitos
que en el agua están,
nadando, jugando,
cantando: ¡cuá, cuá!





6



Si le sumas su
hermano gemelo al tres,
¿ya sabes cuál es?




7




Dos redondelitos
muy arrimaditos.



8







Hay un número
que muy valiente se
creía, pero cuando su
cinturón le quitabas,
todo su valor perdía.



9





Pan y pan y medio,
dos panes y medio;
cinco medios panes,
¿Cuántos panes son?



Dos panes y medio



10



¿Por qué los números
no se cansan?




11



Tres números iguales
que al sumarlos den 12
pero no es el 4.
¿Qué número puede ser?



12






Soy dos palitos de madera,
si sumo uno y uno.
¿Qué número queda?



13



Se tiene 1 caja grande,
con cuatro cajas medianas dentro,
tres cajas chicas dentro de cada
mediana y 2 cajas pequeñas dentro de
cada chica. ¿Puedes decir cuál es el
número completo de cajas de regalo
que se tienen?



14



¿Cuáles son los números
más pesimistas?




15




Soy más de uno
sin llegar al tres,
y llego a cuatro
cuando dos me des.



16







El 27 está entre nosotros dos.




17



Un número que no contiene la letra "o" ni la "e".




18



Hay gatos en un cajón, cada gato en un rincón, cada gato ve tres gatos ¿Sabes cuántos son?




19



Comienzo con uno, prosigo con uno, terminé con uno. ¿Me conoce alguno?




20





¿ Las estaciones del año y también los elementos y los puntos cardinales, ese número represento. ?

21




¿ Cuéntate las manos o cuéntate los pies y en seguida sabrás qué número es. ?

22



¿ Por qué enloqueció el libro de matemáticas? ?

23



¿ Cuánto es la mitad de $2 + 2$? ?

24

